

Roll No.

रोल नं.

--	--	--	--	--	--	--	--

Series SSR/2

Code No.

64/2/2

कोड नं.

- Please check that this question paper contains 8 printed pages + 2 Maps.
- Code number given on the right hand side of the question paper should be written on the title page of the answer-book by the candidate.
- Please check that this question paper contains 26 questions.
- Please write down the serial number of the question before attempting it.
- कृपया जाँच कर लें कि इस प्रश्न-पत्र में मुद्रित पृष्ठ 8 + 2 मानचित्र हैं ।
- प्रश्न-पत्र में दाहिने हाथ की ओर दिए गए कोड नम्बर को छात्र उत्तर-पुस्तिका के मुख-पृष्ठ पर लिखें ।
- कृपया जाँच कर लें कि इस प्रश्न-पत्र में 26 प्रश्न हैं ।
- कृपया प्रश्न का उत्तर लिखना शुरू करने से पहले, प्रश्न का क्रमांक अवश्य लिखें ।

## GEOGRAPHY (Theory)

### भूगोल (सैद्धान्तिक)

Time allowed : 3 hours

निर्धारित समय : 3 घण्टे

Maximum Marks : 70

अधिकतम अंक : 70

#### General Instructions :

- (i) There are 26 questions in all.
- (ii) All questions are compulsory.
- (iii) Marks of each question are indicated against it.
- (iv) Questions number 1 to 10 are very short answer questions carrying 1 mark each. Answer to each of these questions should not exceed 20 words.
- (v) Questions number 11 to 20 are short answer questions carrying 3 marks each. Answer to each of these questions should not exceed 80 words.
- (vi) Questions number 21 to 25 are long answer questions carrying 5 marks each. Answer to each of these questions should not exceed 150 words.
- (vii) Question number 26 is related to identification or locating and labelling of geographical features on maps.
- (viii) Outline maps of the World and India provided to you must be attached within your answer book.
- (ix) Use of templates or stencils for drawing outline maps is allowed.

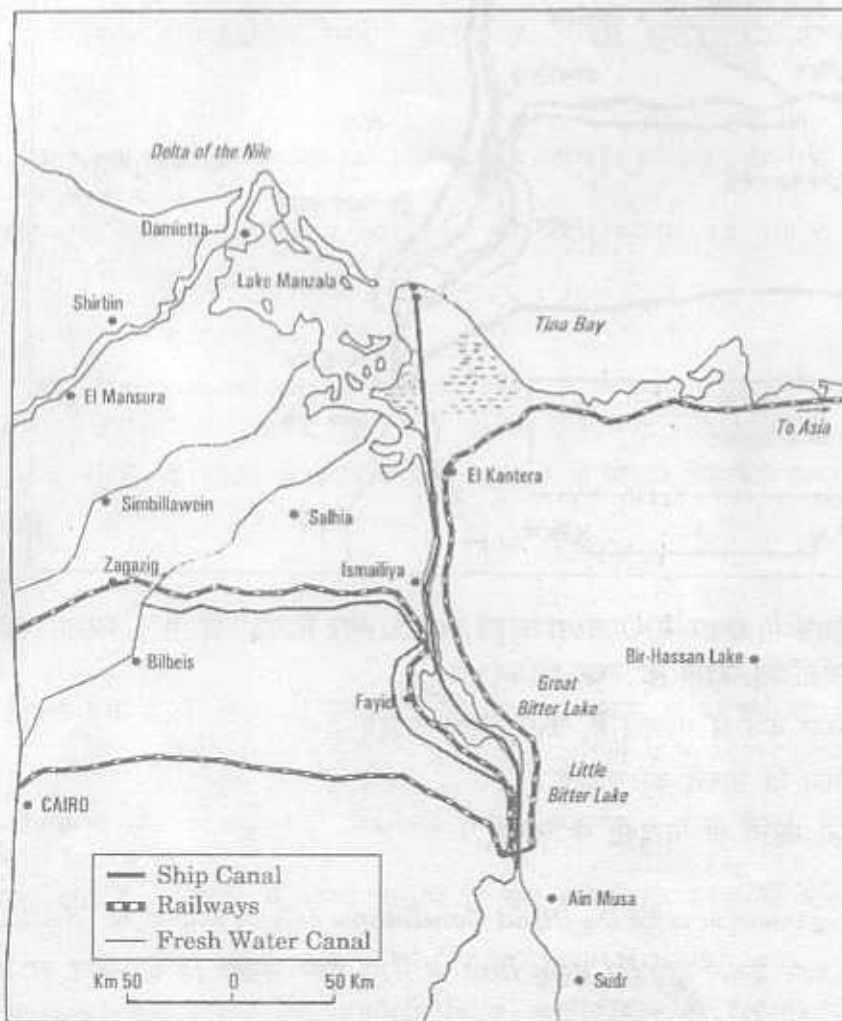
#### सामान्य निर्देश :

- (i) प्रश्नों की कुल संख्या 26 है ।
- (ii) सभी प्रश्न अनिवार्य हैं ।
- (iii) प्रत्येक प्रश्न के सामने उसके अंक दिये हैं ।

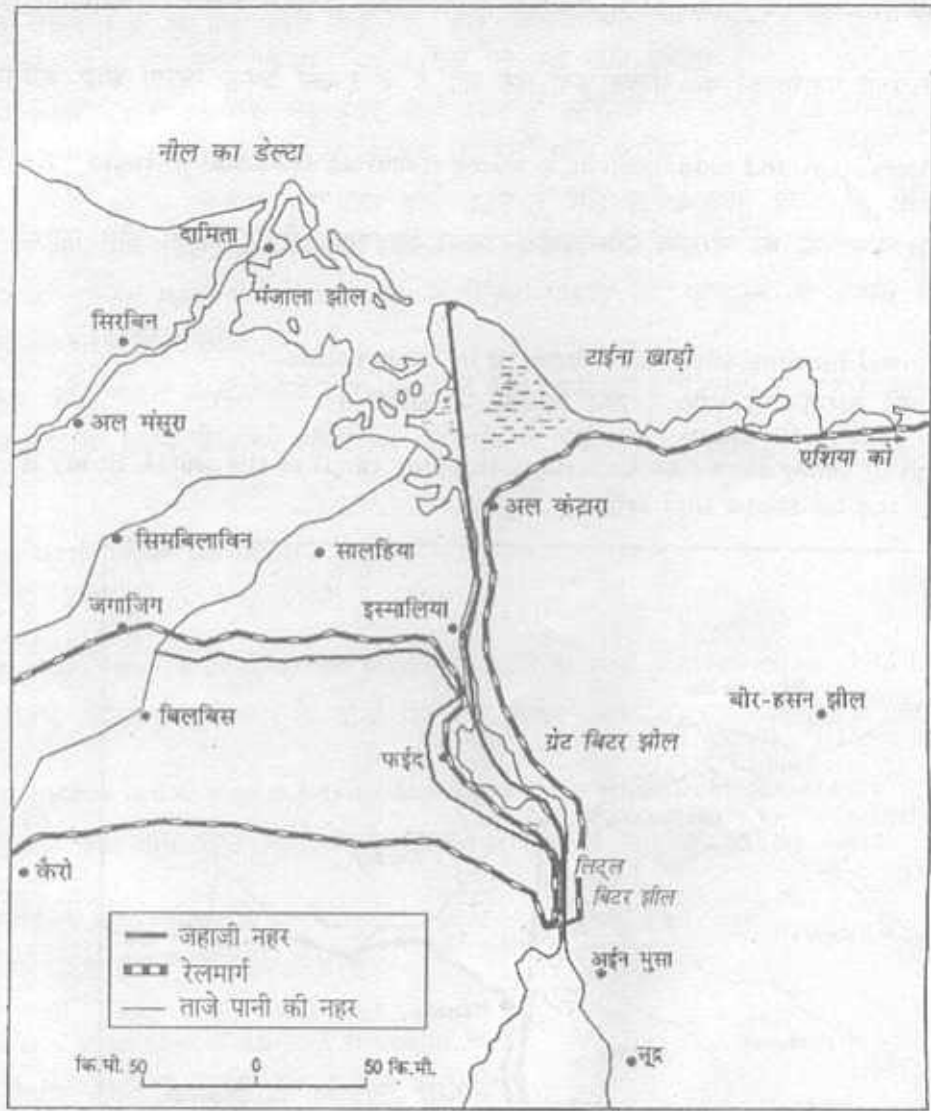
- (iv) प्रश्न संख्या 1 से 10 तक अति लघु-उत्तर वाले प्रश्न हैं और प्रत्येक प्रश्न का 1 अंक है। इनमें से प्रत्येक प्रश्न का उत्तर 20 शब्दों से अधिक का नहीं होना चाहिए।
- (v) प्रश्न संख्या 11 से 20 तक लघु-उत्तर वाले प्रश्न हैं और प्रत्येक प्रश्न के 3 अंक हैं। इनमें से प्रत्येक प्रश्न का उत्तर 80 शब्दों से अधिक का नहीं होना चाहिए।
- (vi) प्रश्न संख्या 21 से 25 तक लंबे-उत्तर वाले प्रश्न हैं और प्रत्येक प्रश्न के 5 अंक हैं। इनमें से प्रत्येक प्रश्न का उत्तर 150 शब्दों से अधिक का नहीं होना चाहिए।
- (vii) प्रश्न संख्या 26 मानचित्रों पर दिए गए भौगोलिक लक्षणों को पहचानने या स्थिति दिखाने और नामांकन करने से संबंधित है।
- (viii) संसार और भारत के दिये गये रेखा-मानचित्रों को अपनी उत्तर-पुस्तिका में अवश्य नक्की कीजिए।
- (ix) रेखा-मानचित्र बनाने के लिये साँचों या स्टेंसिलों के प्रयोग की अनुमति दी जाती है।

1. Define the term 'noise pollution'. 1  
'ध्वनि प्रदूषण' शब्द की परिभाषा दीजिए।
2. Name the cities located at both the terminals of National Waterway No. 1 of India. 1  
भारत के राष्ट्रीय जलमार्ग संख्या 1 के दोनों सिरे पर स्थित नगरों के नाम बताइए।
3. Name the Indian railway zone having the highest earnings from passengers. 1  
यात्रियों से सर्वाधिक आय प्राप्त करने वाले भारतीय रेलमण्डल का नाम बताइए।
4. Name any two fossil fuels.  $2 \times \frac{1}{2} = 1$   
किन्हीं दो जीवाश्म ईंधनों के नाम बताइए।
5. Give any two examples of ancient towns of India.  $2 \times \frac{1}{2} = 1$   
भारत के प्राचीन नगरों के कोई दो उदाहरण दीजिए।
6. Name the first million city of the world. 1  
विश्व के सबसे पहले मिलियन सिटी का नाम बताइए।
7. Which type of rural settlement pattern develops along a road, railway line, river, canal, etc. ? 1  
सड़क, रेल लाइन, नदी, नहर, आदि के किनारों पर ग्रामीण बस्तियों का कौनसा प्रतिरूप विकसित होता है ?
8. Which is the most important riverine inland waterway of Russia ? 1  
रूस का सर्वाधिक महत्वपूर्ण नदीय आंतरिक जलमार्ग कौनसा है ?
9. Which are the two types of intensive subsistence agriculture ?  $2 \times \frac{1}{2} = 1$   
गहन निर्वाह कृषि के दो प्रकार कौनसे हैं ?

10. Why is the number of pastoral nomadics decreasing in the world ? Explain the main reason for it. 1  
 विश्व में चलवासी पशुचारकों की संख्या क्यों घट रही है ? इसका प्रमुख कारण स्पष्ट कीजिए ।
11. Why is conservation and management of water resources essential in India ? Explain any three reasons. 3×1=3  
 भारत में जल संसाधनों का संरक्षण और प्रबन्धन क्यों आवश्यक है ? किन्हीं तीन कारणों को स्पष्ट कीजिए ।
12. Compare mixed farming with dairy farming in three points. 3×1=3  
 मिश्रित कृषि की तुलना डेरी कृषि से तीन बिन्दुओं में कीजिए ।
13. The map given below shows an important shipping canal of the world. Study it carefully and answer the questions that follow : 3×1=3



- (13.1) Name the country through which this canal passes.
- (13.2) Which two seas are connected by this canal ?
- (13.3) Write two points of importance of this canal.



ऊपर दिए गए मानचित्र में संसार की एक महत्त्वपूर्ण जहाजी नहर दिखाई गई है। इसका सावधानीपूर्वक अध्ययन करके निम्नलिखित प्रश्नों के उत्तर दीजिए :

- (13.1) यह नहर किस देश से गुजरती है, उसका नाम बताइए।
- (13.2) यह नहर किन दो सागरों को जोड़ती है ?
- (13.3) इस नहर का महत्त्व दो बिन्दुओं में लिखिए।

**Note :** The following question is for the **Blind Candidates** only in lieu of Q. No. 13.

**नोट :** निम्नलिखित प्रश्न केवल **दृष्टिहीन परीक्षार्थियों** के लिए प्रश्न संख्या 13 के स्थान पर है।

What are the three major types of inland waterways of the world? State three factors on which the development of inland waterways depends.

3

संसार में आंतरिक जलमार्गों के तीन मुख्य प्रकार कौनसे हैं? उन तीन कारकों का उल्लेख कीजिए जिन पर आंतरिक जलमार्गों का विकास निर्भर करता है।

14. Explain three basic differences between rural and urban settlements of India. 3×1=3  
 भारत की ग्रामीण और नगरीय बस्तियों में तीन आधारभूत अन्तर स्पष्ट कीजिए ।
15. Explain any three problems of urban settlements of developing countries of the world. 3×1=3  
 विश्व के विकासशील देशों की नगरीय बस्तियों की किन्हीं तीन समस्याओं को स्पष्ट कीजिए ।
16. Which are the two types of ports based on location ? Write any two features of each type of port. 1+2=3  
 अवस्थिति के आधार पर पत्तनों के दो प्रकार कौनसे हैं ? प्रत्येक प्रकार के पत्तन की कोई दो विशेषताएँ लिखिए ।
17. Which is the longest transcontinental railway in the world ? Write any four characteristics of this transcontinental railway line. 1+2=3  
 विश्व में सबसे लम्बा पारमहाद्वीपीय रेलमार्ग कौनसा है ? इस पारमहाद्वीपीय रेलमार्ग की कोई चार विशेषताएँ बताइए ।
18. How has degradation of cultivable land become a serious problem in India ? Explain it in three points, with examples. 3×1=3  
 भारत में कृषि-योग्य भूमि का निम्नीकरण किस प्रकार एक गंभीर समस्या बन गया है ? उदाहरणों सहित तीन बिन्दुओं में इसे स्पष्ट कीजिए ।
19. Name the three approaches introduced in 1970s in human geography. State the main feature of each approach. 1½+1½=3  
 मानव भूगोल में 1970s के दशक में शामिल तीनों उपागमों के नाम बताइए । प्रत्येक उपागम का मुख्य लक्षण बताइए ।
20. What is environmental pollution ? State the four types of pollution, with examples from India. 1+2=3  
 पर्यावरण प्रदूषण क्या है ? भारत से उदाहरण देते हुए चार प्रकार के प्रदूषण का उल्लेख कीजिए ।
21. What is human development ? Explain with examples the four pillars of human development in the world. 1+4=5  
 मानव विकास क्या है ? संसार में मानव विकास के चार स्तम्भों को उदाहरणों सहित स्पष्ट कीजिए ।
22. "India's international trade has undergone a sea-change in recent years." Give five arguments in support of this statement. 5×1=5  
 "भारत के अंतर्राष्ट्रीय व्यापार में विगत कुछ वर्षों में बहुत परिवर्तन हुआ है ।" इस कथन की पुष्टि में पाँच तर्क दीजिए ।

23. Study the data given below in the table and answer the questions that follow :

3+2=5

**Religious Communities of India, 2001**

Religious Groups	2001	
	Population (in million)	% of Total
Hindus	827.6	80.5
Muslims	138.2	13.5
Christians	24.1	2.3
Sikhs	19.2	1.9
Buddhists	8.0	0.9
Jains	4.2	0.4
Others	6.6	0.6

- (23.1) Which religious community occupies the second place in the total population of India ? Name a State and a Union Territory, where the people of this community are in majority.
- (23.2) Which is the smallest religious community in India ? Name the three states where this community is mainly concentrated.

नीचे दी गई सारणी के आँकड़ों का अध्ययन कीजिए और निम्नलिखित प्रश्नों के उत्तर दीजिए :

**भारत में धार्मिक समुदाय, 2001**

धार्मिक समूह	2001	
	जनसंख्या (दस लाख में)	कुल का प्रतिशत
हिंदू	827.6	80.5
मुस्लिम	138.2	13.5
ईसाई	24.1	2.3
सिक्ख	19.2	1.9
बौद्ध	8.0	0.9
जैन	4.2	0.4
अन्य	6.6	0.6

- (23.1) किस धार्मिक समुदाय का भारत की कुल जनसंख्या में दूसरा स्थान है ? एक राज्य और एक केन्द्र-शासित प्रदेश का नाम बताइए जहाँ इस समुदाय के लोग बहुसंख्यक हैं ।
- (23.2) भारत का सबसे छोटा धार्मिक समुदाय कौनसा है ? उन तीन राज्यों के नाम बताइए जिनमें इस समुदाय का मुख्यतः संकेन्द्रण है ।

**Note :** The following question is for the **Blind Candidates** only in lieu of Q. No. 23.

**नोट :** निम्नलिखित प्रश्न केवल **दृष्टिहीन परीक्षार्थियों** के लिए प्रश्न संख्या 23 के स्थान पर है ।

Name the five religious minority groups in India. Mention any one state where each of these religious groups is mainly concentrated.  $2\frac{1}{2} + 2\frac{1}{2} = 5$

भारत में पाए जाने वाले पाँच धार्मिक अल्पसंख्यक समुदायों के नाम बताइए । इनमें से प्रत्येक धार्मिक समुदाय के मुख्यतः संकेन्द्रण वाले किसी एक राज्य का नाम बताइए ।

24. What are the major objectives of the New Industrial Policy of India, 1991, State any six measures initiated within this policy.  $2+3=5$

भारत की नई औद्योगिक नीति, 1991 के मुख्य उद्देश्य क्या हैं ? इस नीति के अन्तर्गत प्रारंभ किए गए किन्हीं छः उपायों का उल्लेख कीजिए ।

25. What is the importance of tourism ? Explain with examples the four factors of tourist attractions in the world.  $1+4=5$

पर्यटन का क्या महत्त्व है ? विश्व में पर्यटन आकर्षण के चार कारकों को उदाहरणों सहित स्पष्ट कीजिए ।

26. (26.1) In the given political outline map of the **World** (on page 9), four features are shown as A, B, C and D. Identify them with the help of the map legend and write their correct names on the lines marked on the map.  $4 \times \frac{1}{2} = 2$

(26.2) On the given political outline map of **India** (on page 11) provided to you, locate and label the following with appropriate symbols :  $3 \times 1 = 3$

(i) The state having the lowest growth rate of population

(ii) The northernmost international airport

(iii) The software technology park of Madhya Pradesh

(26.1) दिए गए **संसार** के राजनीतिक रेखा-मानचित्र (पृष्ठ 9 पर) में चार लक्षण A, B, C और D से दिखाए गए हैं । मानचित्र की कुंजी की सहायता से उन्हें पहचानिए और मानचित्र में अंकित रेखाओं पर उन लक्षणों के सही नाम लिखिए ।

(26.2) आपको दिए गए **भारत** के राजनीतिक रेखा-मानचित्र (पृष्ठ 11 पर) में निम्नलिखित की स्थिति उपयुक्त चिह्नों द्वारा दिखाइए और उनके नाम लिखिए :

(i) न्यूनतम जनसंख्या वृद्धि दर वाला राज्य

(ii) सबसे उत्तरी अंतर्राष्ट्रीय हवाई-पत्तन

(iii) मध्य प्रदेश का सॉफ्टवेयर प्रौद्योगिकी पार्क

**Note :** The following question is for the **Blind Candidates** only in lieu of Q. No. 26.

**नोट :** निम्नलिखित प्रश्न केवल **दृष्टिहीन परीक्षार्थियों** के लिए प्रश्न संख्या 26 के स्थान पर है ।

(26.1) Name the major sea-port located on the eastern coast of South Africa.

(26.2) Name the international airport of Germany.

(26.3) Name the Indian state which has the lowest growth rate of population.

(26.4) Which is the software technology park located in Madhya Pradesh ?

(26.5) Name the northernmost international airport of India.

5×1=5

(26.1) दक्षिण अफ्रीका के पूर्वी तट पर स्थित प्रमुख समुद्री-पत्तन का नाम बताइए ।

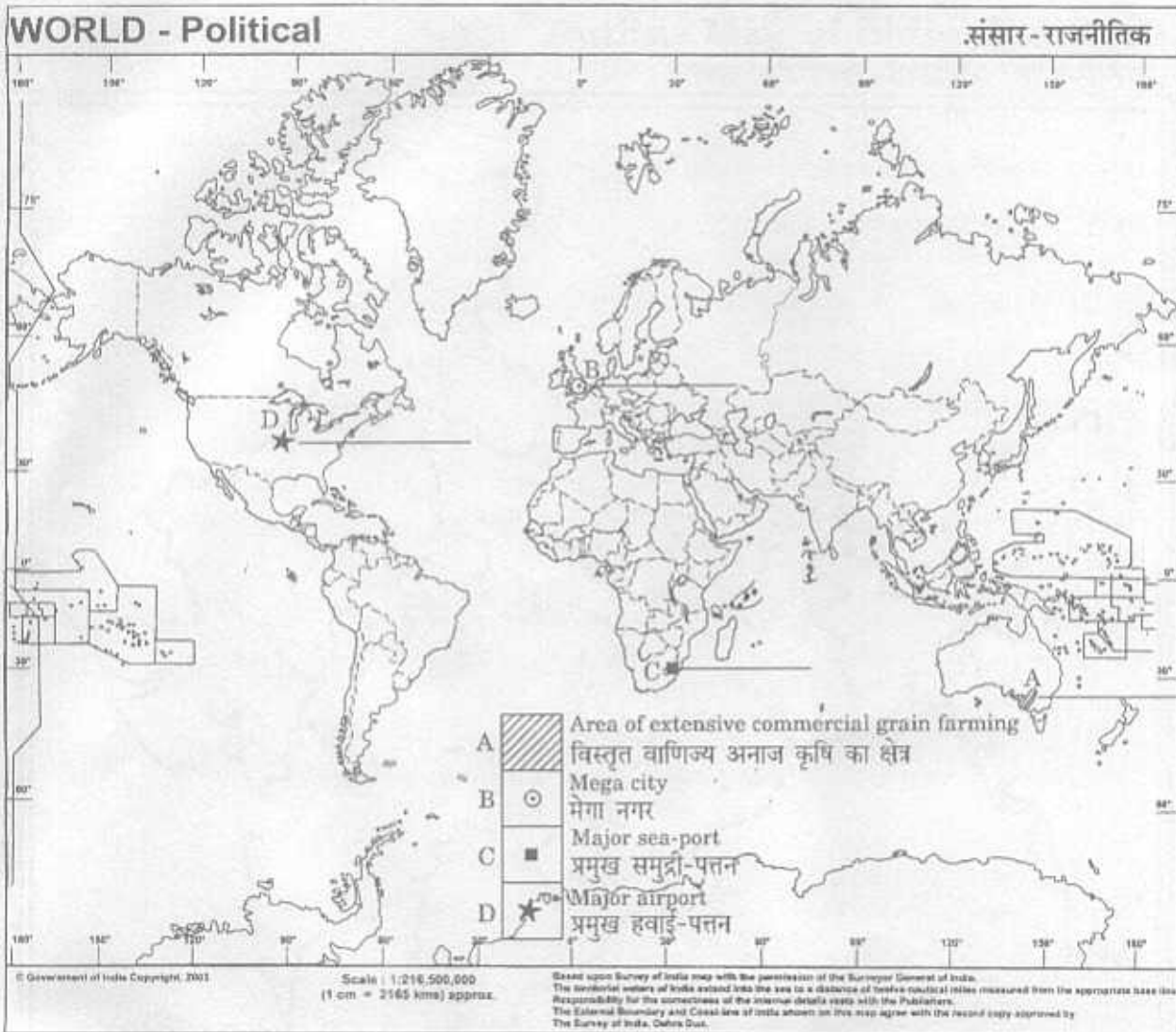
(26.2) जर्मनी के अंतर्राष्ट्रीय हवाई-पत्तन का नाम बताइए ।

(26.3) भारत के न्यूनतम जनसंख्या वृद्धि दर वाले राज्य का नाम बताइए ।

(26.4) मध्य प्रदेश में स्थित सॉफ्टवेयर प्रौद्योगिकी पार्क कौनसा है ?

(26.5) भारत के सबसे उत्तरी अंतर्राष्ट्रीय हवाई-पत्तन का नाम बताइए ।





**Outline Map of India (Political)**  
भारत का रेखा-मानचित्र (राजनीतिक)

